



Institución Educativa La Milagrosa

Secretaría de Educación de Medellín

Distrito de Ciencia, Tecnología e Innovación

Núcleo Educativo 926 La Milagrosa

NIT: 811.017.366-7 DANE: 105001000418

TALLER CIENCIAS NATURALES

Aprendizajes a evaluar:

- Reconocer los sentidos.
- Localizar los órganos de los sentidos.
- Describir la función de los sentidos.
- Proponer normas para proteger los sentidos y normas para prevenir situaciones de riesgo.

1. Dibuja el órgano que le corresponde a cada sentido. (5 puntos)

Vista

Audición

Gusto

Olfato

Tacto

2. Une con una línea cada sentido con su función. (5 puntos)

Vista

Tacto

Gusto

Olfato

Audición



"Humanismo y Tecnología para Formar Jóvenes Emprendedores y Competentes"



Sede Central +57 3243009932
Sede Santo Tomás +57 3243009934



Sede Central: Carrera 29 No. 41-14, Medellín
Sede Santo Tomás: Carrera 33 No. 36A-28, Medellín



secretaria@ielamilagrosa.edu.co



Institución Educativa La Milagrosa

Secretaría de Educación de Medellín

Distrito de Ciencia, Tecnología e Innovación

Núcleo Educativo 926 La Milagrosa

NIT: 811.017.366-7 DANE: 105001000418

EL GUSTO

El GUSTO es el sentido que nos permite

El sentido del gusto está localizado en la

Cada parte de la lengua reconoce un gusto particular. En el centro, la lengua no reconoce ninguno.

En la parte de atrás la lengua reconoce el gusto amargo, como el de la cebolla.



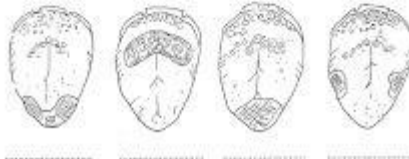
La lengua percibe también el calor, el frío y el dolor (por ejemplo, cuando te la muerdes).

En los lados, la lengua reconoce el gusto ácido, como el del limón.

En la punta, la lengua reconoce lo dulce y lo salado.

1. ¿Cuáles son los cuatro sabores que podemos distinguir?

2. Colorea los siguientes lenguas y escribe el nombre del sabor que podemos distinguir en cada parte de la lengua señalada.



Institución

MILAGROSA

Humanismo y tecnología

"Humanismo y Tecnología para Formar Jóvenes Emprendedores y Competentes"



Institución Educativa La Milagrosa

Secretaría de Educación de Medellín

Distrito de Ciencia, Tecnología e Innovación

Núcleo Educativo 926 La Milagrosa

NIT: 811.017.366-7 DANE: 105001000418

Algunos órganos de nuestro cuerpo

ÓRGANO	NOMBRE	FUNCIÓN
		
		
		
		
		

intestinos corazón riñones pulmones estómago

Descomponer el alimento en sustancias más pequeñas.

Filtrar la sangre y formar la orina.

Llevar el oxígeno a la sangre a través de la respiración.

Repartir la sangre por todo el cuerpo.

Expulsar las heces fecales del cuerpo.

"Humanismo y Tecnología para Formar Jóvenes Emprendedores y Competentes"



Sede Central +57 3243009932
Sede Santo Tomás +57 3243009934



Sede Central: Carrera 29 No. 41-14, Medellín
Sede Santo Tomás: Carrera 33 No. 36A-28, Medellín



secretaria@ielamilagrosa.edu.co



Institución Educativa La Milagrosa

Secretaría de Educación de Medellín

Distrito de Ciencia, Tecnología e Innovación

Núcleo Educativo 926 La Milagrosa

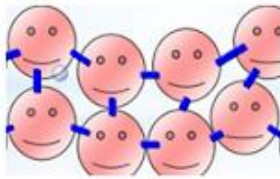
NIT: 811.017.366-7 DANE: 105001000418

Nombre: _____

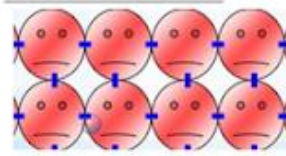
1. ¿Qué es la materia?

2. Escribe los cuatro estados de la materia:

3. El siguiente dibujo corresponde a la materia en estado :



4. El siguiente dibujo corresponde a la materia en estado:



5. La leche se encuentra en estado:



6. Un cubo de hielo se encuentra en estado :



7. La lava de un volcán se encuentra en estado:



8. Escribe 5 ejemplos de líquidos:

9. Escribe 5 ejemplos de Sólidos :

10. Escribe 5 ejemplos de gaseosos:

"Humanismo y Tecnología para Formar Jóvenes Emprendedores y Competentes"



Institución Educativa La Milagrosa

Secretaría de Educación de Medellín


Distrito de Ciencia, Tecnología e Innovación

Núcleo Educativo 926 La Milagrosa

NIT: 811.017.366-7 DANE: 105001000418



"Humanismo y Tecnología para Formar Jóvenes Emprendedores y Competentes"

 Sede Central +57 3243009932
Sede Santo Tomás +57 3243009934

 Sede Central: Carrera 29 No. 41-14, Medellín
Sede Santo Tomás: Carrera 33 No. 36A-28, Medellín

 secretaria@ielamilagrosa.edu.co



Estados de la Materia

Observa y escribe si los dibujos son sólidos, líquido o gas.
Look and write if the pictures are solid, liquid and gas.



El TV es _____



El viento es _____



La leche es _____



La mesa es _____



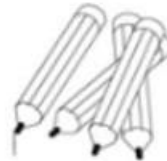
La lata es _____
The can



Los globos estan llenos de _____
The balloons are full of



La lluvia es _____
The rain



Los lápiz son _____



El globo caliente es esta
lleno de _____
The hot air balloons are full
of



La limonada es _____
The lemonade is